



CONSORCIO PYSKAP
2022



LISTA DE ASISTENCIA

CODIGO: FO-RH-T-08

VERSIÓN: 1

NOMBRE RESPONSABLE:

PROCESO / PROYECTO:

LUGAR DE REUNIÓN

TEMA A TRATAR:

FECHA (DD/MM/AAAA):

HORA INICIO:

HORA FIN:

TIPO DE ACTIVIDAD:

Capacitación: ___ Entrenamiento: ___ Inducción: ___ Charla: ___ Otro, ¿Cuál?: Divulgación

N°	NOMBRE	No. DOCUMENTO	PROCESO Y/O PROYECTO	CARGO	FIRMA
1	Diana Borrero	400119126	MEN	Tecnico	Diana
2	Anderson Hoerfano	1.071.550.222	MEN	Tecnico	Anderson
3	JAKELIN CASTELLANOS	1072553765	MEN	AUX ARCHIVO	JAK
4	Carlos Bermudez	19428963	MEN	Aux Archiv	Carlos
5	Marcela Quijano	52523566	MEN	AUX ARCHIVO	Marcela
6	Andrea Milena M.	52730554	MEN	Aux Archivo	Andrea
7	PATRICIA E. TOVAL G.	52.180.155	MEN	TECNICA ADMIN	Patricia
8	Tatiana Gutierrez	102458308	MEN	AUX ARCHIVO	Tatiana
9	Esneider Garcia	53043916	MEN	Tecnico	Esneider
10	Paula Lopez	103060597	MEN	Tecnico	Paula
11	Victor Poir	1024503979	MEN	Tecnico	Victor
12	Nicol Aviles	1000572588	MEN	AUX DIGITADOR	Nicol
13	Laura Solanki T	1030669908	MEN	AUX ARCHIVO	Laura
14	Camilo Chavez	1027424618	MEN	AUX ARCHIVO	Camilo
15	Leidy Alcala	103545551	MEN	Tecnico	Leidy
16	Carolina Lozano	1030583944	MEN	Tecnico	Carolina
17	Daniel Arturo Mora	30033753	MEN	AUX ARCH	Daniel
18	Camilo Pinzon	1009101714	MEN	Tecnico	Camilo
19	Olivia Rivera	03011.054	MEN	Auxiliar	Olivia
20	Mayerli Salazar	1023911805	MEN	Tecnico	Mayerli
21	Diana Paola Rojas	1000807892	MEN	AUX DIGITA-	Diana
22	Rosio Salas	52341625	MEN	AUX DIGITADOR	Rosio

OBSERVACIONES:

Realizó:

Etiqueta:

Guillermo Mora



CONSORCIO PYSKAP
2022



LISTA DE ASISTENCIA

CODIGO: FO-RH-T-08

VERSIÓN: 1

NOMBRE RESPONSABLE:

PROCESO / PROYECTO:

LUGAR DE REUNIÓN

TEMA A TRATAR:

FECHA (DD/MM/AAAA):

HORA INICIO:

HORA FIN:

TIPO DE ACTIVIDAD:

Capacitación: __ Entrenamiento: __ Inducción: __ Charla: __ Otro, ¿Cuál?: Divulgación

Nº	NOMBRE	No. DOCUMENTO	PROCESO Y/O PROYECTO	CARGO	FIRMA
1	Richard Sola Melina	100772119	MEN-Transfervencia	Tecnico	Richard Sola Melina
2	Angie Maribel Rodriguez	1073176240	MEN	Aux. de Archivo	Angie Maribel Rodriguez
3	JONATHAN ORTIZ	1022386620	M. E. N.	Aux. ARCHIVO	JONATHAN ORTIZ
4	Mileidis Martinez O	1065241451	MEN	Aux. ARCHIVO	Mileidis Martinez O.
5	Jennifer Pizarro	1000800884	MEN	Tecnico	Jennifer Pizarro
6	Jueh Pezo	51835853	Famisanor	Aux. Archivo	Jueh Pezo
7	Sindy Tatiana G	1006003235	MEN	Tecnico	Sindy Tatiana G.
8	Andrea Ruiz	7012437367	MEN	Tecnico	Andrea Ruiz
9	Yulibanaiz	1012352452	MEN	Tecnico	Yulibanaiz
10					
11					
12					
13					
14					
15					
16					
17					
18					
19					
20					
21					
22					



OBSERVACIONES:

Realizó:

Guillermo Lizarazo

Etiqueta:

1

 		EVALUACIÓN DE CONOCIMIENTOS		CÓDIGO. FO-SST-T-T23 VERSIÓN. 1 Pág. 1 de 2
TEMA CAPACITACIÓN	SEGURIDAD VIAL	Fecha Hora Inicio 9:00am	01-11-2023 Hora Fin 10:00am	
Nombres	Daifina Barrera Conchiza	Número de identificación	1001119126	
Proyecto	MEN	Resultado	4	

Etiqueta

R

Con sinceridad y de manera independiente responda las siguientes preguntas. Gracias por su colaboración.

PREGUNTAS

1. Cual es la norma que regula el Código Nacional de Tránsito.

- ☒ a. Ley 769 de 2002
- b. Ley 756 de 2010
- c. Ley 710 de 2015

2. indique el tipo de señales que contiene el Código Nacional de Tránsito.

- ☒ a. Preventivas, Informativas, Restrictivas.
- b. Informativas, Restrictivas, de orden.
- c. Preventivas, de orden, Informativas

3. Indique la jerarquía de priorización de actores Viales

- ☒ a. Peatones, ciclistas, motos, transporte de carga, autos y transporte público.
- b. Autos, motos, Peatones, ciclistas, transporte público y transporte de carga.
- c. Peatones, ciclistas, transporte público, transporte de carga, autos y motos.



4. Se define como el suceso ocasionando o en el que haya intervenido un vehículo automotor en una vía pública o privada con acceso al público.

- a. Accidente laboral.
- b. Deceso vial.
- ☒ c. Accidente de tránsito.

5. ¿Por qué el signo PARE tiene ocho lados?

- a) Porque evita más accidentes que las de forma rectangular.
- b) Sus ocho lados son los 8 segundos que debemos esperar para pasar.
- ☒ c) a y b son correctas.

Observaciones y sugerencias

 CONSORCIO PYSRAP 2022 	EVALUACIÓN DE CONOCIMIENTOS		CÓDIGO. FO-SST-T-T23
			VERSIÓN. 1
			Pág. 1 de 2

TEMA CAPACITACIÓN	SEGURIDAD VIAL	Fecha	01-11-2023
		Hora Inicio	07:00
Nombres	ANDERSON CAMILO HUERFANO REYES	Número de identificación	1.071.550.222
Proyecto	MEN	Resultado	4

Etiqueta

R

Con sinceridad y de manera independiente responda las siguientes preguntas. Gracias por su colaboración.

PREGUNTAS

1. Cual es la norma que regula el Código Nacional de Tránsito.

- ☒ a. Ley 769 de 2002
- b. Ley 756 de 2010
- c. Ley 710 de 2015

2. indique el tipo de señales que contiene el Código Nacional de Tránsito.

- ☒ a. Preventivas, Informativas, Restrictivas.
- b. Informativas, Restrictivas, de orden.
- c. Preventivas, de orden, Informativas

3. Indique la jerarquía de priorización de actores Viales

- ☒ a. Peatones, ciclistas, motos, transporte de carga, autos y transporte público.
- b. Autos, motos, Peatones, ciclistas, transporte público y transporte de carga.
- c. Peatones, ciclistas, transporte público, transporte de carga, autos y motos.

4. Se define como el suceso ocasionando o en el que haya intervenido un vehículo automotor en una vía pública o privada con acceso al público.

- a. Accidente laboral.
- b. Deceso vial.
- ☒ c. Accidente de tránsito.

5. ¿Por qué el signo PARE tiene ocho lados?

- a) Porque evita más accidentes que las de forma rectangular.
- ☒ b. Sus ocho lados son los 8 segundos que debemos esperar para pasar.
- ☒ c. a y b son correctas.

Corrección →

Observaciones y sugerencias

--

 	EVALUACIÓN DE CONOCIMIENTOS		CÓDIGO. FO-SST-T-T23
			VERSIÓN. 1
			Pág. 1 de 2

TEMA CAPACITACIÓN	SEGURIDAD VIAL	Fecha	01-11-2023
		Hora Inicio	09:00 am
Nombres	JAKELIN CASTELLANOS	Número de identificación	1022353765
Proyecto	MEN	Resultado	4

Etiqueta

R

Con sinceridad y de manera independiente responda las siguientes preguntas. Gracias por su colaboración.

PREGUNTAS

1. Cual es la norma que regula el Código Nacional de Tránsito.

- ☒ a. Ley 769 de 2002
- b. Ley 756 de 2010
- c. Ley 710 de 2015

2. indique el tipo de señales que contiene el Código Nacional de Tránsito.

- ☒ a. Preventivas, Informativas, Restrictivas.
- b. Informativas, Restrictivas, de orden.
- c. Preventivas, de orden, Informativas

3. Indique la jerarquía de priorización de actores Viales

- ☒ a. Peatones, ciclistas, motos, transporte de carga, autos y transporte público.
- b. Autos, motos, Peatones, ciclistas, transporte público y transporte de carga.
- c. Peatones, ciclistas, transporte público, transporte de carga, autos y motos.

4. Se define como el suceso ocasionando o en el que haya intervenido un vehículo automotor en una vía pública o privada con acceso al público.



- a. Accidente laboral.
- b. Deceso vial.
- ☒ c. Accidente de tránsito.

5. ¿Por qué el signo PARE tiene ocho lados?

- a) Porque evita más accidentes que las de forma rectangular.
- b) Sus ocho lados son los 8 segundos que debemos esperar para pasar.
- ☒ c) a y b son correctas.

Observaciones y sugerencias

--

 		EVALUACIÓN DE CONOCIMIENTOS		CÓDIGO. FO-SST-T-T23	
				VERSIÓN. 1	
				Pág. 1 de 2	
TEMA CAPACITACIÓN		Fecha 01-11-2023		SEGURIDAD VIAL	
		Hora Inicio 9:00 am		Hora Fin 10:00 am	
Nombres Tatiana Gutierrez		Número de identificación 1024583070			
Proyecto MEN		Resultado 5			

Etiqueta

R

Con sinceridad y de manera independiente responda las siguientes preguntas. Gracias por su colaboración.

PREGUNTAS

1. Cual es la norma que regula el Código Nacional de Tránsito.

- ☒ a. Ley 769 de 2002
- b. Ley 756 de 2010
- c. Ley 710 de 2015

2. Indique el tipo de señales que contiene el Código Nacional de Tránsito.

- ☒ a. Preventivas, Informativas, Restrictivas.
- b. Informativas, Restrictivas, de orden.
- c. Preventivas, de orden, Informativas

3. Indique la jerarquía de priorización de actores Viales

- a. Peatones, ciclistas, motos, transporte de carga, autos y transporte público.
- b. Autos, motos, Peatones, ciclistas, transporte público y transporte de carga.
- ☒ c. Peatones, ciclistas, transporte público, transporte de carga, autos y motos.

4. Se define como el suceso ocasionando o en el que haya intervenido un vehículo automotor en una vía pública o privada con acceso al público.



- a. Accidente laboral.
- b. Deceso vial.
- ☒ c. Accidente de tránsito.

5. ¿Por qué el signo PARE tiene ocho lados?

- a) Porque evita más accidentes que las de forma rectangular.
- b) Sus ocho lados son los 8 segundos que debemos esperar para pasar.
- ☒ c. a y b son correctas.

Observaciones y sugerencias

--

 	EVALUACIÓN DE CONOCIMIENTOS		CÓDIGO. FO-SST-T-T23
			VERSIÓN. 1
			Pág. 1 de 2

TEMA CAPACITACIÓN	SEGURIDAD VIAL	Fecha	01-11-2023
		Hora Inicio	9:00 am
Nombres	LUZ ESNEIDA GARCIA HENDEZ	Número de identificación	53.043.916
Proyecto	HEN	Resultado	4.5

Etiqueta

R

Con sinceridad y de manera independiente responda las siguientes preguntas. Gracias por su colaboración.

PREGUNTAS

1. Cual es la norma que regula el Código Nacional de Tránsito.

- ☒ a. Ley 769 de 2002
- b. Ley 756 de 2010
- c. Ley 710 de 2015

2. Indique el tipo de señales que contiene el Código Nacional de Tránsito.

- ☒ a. Preventivas, Informativas, Restrictivas.
- b. Informativas, Restrictivas, de orden.
- c. Preventivas, de orden, Informativas

3. Indique la jerarquía de priorización de actores Viales

- a. Peatones, ciclistas, motos, transporte de carga, autos y transporte público.
- b. Autos, motos, Peatones, ciclistas, transporte público y transporte de carga.
- ☒ c. Peatones, ciclistas, transporte público, transporte de carga, autos y motos.

4. Se define como el suceso ocasionando o en el que haya intervenido un vehículo automotor en una vía pública o privada con acceso al público.



- a. Accidente laboral.
- b. Deceso vial.
- ☒ c. Accidente de tránsito.

5. ¿Por qué el signo PARE tiene ocho lados?

- a) Porque evita más accidentes que las de forma rectangular.
- ☒ b) Sus ocho lados son los 8 segundos que debemos esperar para pasar.
- c) a y b son correctas.

Observaciones y sugerencias

--

 		EVALUACIÓN DE CONOCIMIENTOS		CÓDIGO. FO-SST-T-T23 VERSIÓN. 1 Pág. 1 de 2
TEMA CAPACITACIÓN	SEGURIDAD VIAL	Fecha 01-11-2023	01-11-2023	
Nombres	Paola Lorena Lopez Nungo.	Número de identificación	703066587	
Proyecto	MEN.	Resultado	4.5	

Etiqueta

R

Con sinceridad y de manera independiente responda las siguientes preguntas. Gracias por su colaboración.

PREGUNTAS

1. Cual es la norma que regula el Código Nacional de Tránsito.

- ☒ a. Ley 769 de 2002
- b. Ley 756 de 2010
- c. Ley 710 de 2015

2. Indique el tipo de señales que contiene el Código Nacional de Tránsito.

- ☒ a. Preventivas, Informativas, Restrictivas.
- b. Informativas, Restrictivas, de orden.
- c. Preventivas, de orden, Informativas

3. Indique la jerarquía de priorización de actores Viales

- a. Peatones, ciclistas, motos, transporte de carga, autos y transporte público.
- b. Autos, motos, Peatones, ciclistas, transporte público y transporte de carga.
- ☒ c. Peatones, ciclistas, transporte público, transporte de carga, autos y motos.

4. Se define como el suceso ocasionando o en el que haya intervenido un vehículo automotor en una vía pública o privada con acceso al público.

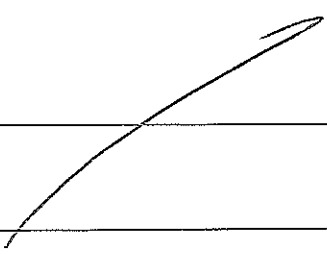
- a. Accidente laboral.
- b. Deceso vial.
- ☒ c. Accidente de tránsito.



5. ¿Por qué el signo PARE tiene ocho lados?

- a) Porque evita más accidentes que las de forma rectangular.
- ☒ b) Sus ocho lados son los 8 segundos que debemos esperar para pasar.
- c) a y b son correctas.

0,5

Observaciones y sugerencias



 	EVALUACIÓN DE CONOCIMIENTOS		CÓDIGO. FO-SST-T-T23
			VERSIÓN. 1
			Pág. 1 de 2

TEMA CAPACITACIÓN		SEGURIDAD VIAL	Fecha	01-11-2023		
			Hora Inicio	9:00am	Hora Fin	10:00am
Nombres	Victor Alfonso Dai		Número de identificación	1024503979		
Proyecto	MEN		Resultado	5		

Etiqueta

R

Con sinceridad y de manera independiente responda las siguientes preguntas. Gracias por su colaboración.

PREGUNTAS

1. Cual es la norma que regula el Código Nacional de Tránsito.

- ☒ a. Ley 769 de 2002
- b. Ley 756 de 2010
- c. Ley 710 de 2015

2. Indique el tipo de señales que contiene el Código Nacional de Tránsito.

- ☒ a. Preventivas, Informativas, Restrictivas.
- b. Informativas, Restrictivas, de orden.
- c. Preventivas, de orden, Informativas

3. Indique la jerarquía de priorización de actores Viales

- a. Peatones, ciclistas, motos, transporte de carga, autos y transporte público.
- b. Autos, motos, Peatones, ciclistas, transporte público y transporte de carga.
- ☒ c. Peatones, ciclistas, transporte público, transporte de carga, autos y motos.

4. Se define como el suceso ocasionando o en el que haya intervenido un vehículo automotor en una vía pública o privada con acceso al público.



- a. Accidente laboral.
- b. Deceso vial.
- ☒ c. Accidente de tránsito.

5. ¿Por qué el signo PARE tiene ocho lados?

- a) Porque evita más accidentes que las de forma rectangular.
- b) Sus ocho lados son los 8 segundos que debemos esperar para pasar.
- ☒ c. a y b son correctas.

Observaciones y sugerencias

--

 	EVALUACIÓN DE CONOCIMIENTOS		CÓDIGO. FO-SST-T-T23
			VERSIÓN. 1
			Pág. 1 de 2

TEMA CAPACITACIÓN	SEGURIDAD VIAL	Fecha	01-11-2023
		Hora Inicio 9:00am	Hora Fin 10:00am
Nombres	NICOL ADILEE GUERRA	Número de identificación	1000572588
Proyecto	MEN	Resultado	5

Etiqueta

R

Con sinceridad y de manera independiente responda las siguientes preguntas. Gracias por su colaboración.

PREGUNTAS

1. Cual es la norma que regula el Código Nacional de Tránsito.

- ☒ a. Ley 769 de 2002
 - ☐ b. Ley 756 de 2010
 - ☐ c. Ley 710 de 2015
- > Ley 1383 - 2010, RENUEVA.*

2. Indique el tipo de señales que contiene el Código Nacional de Tránsito.

- ☒ a. Preventivas, Informativas, Restrictivas.
- ☐ b. Informativas, Restrictivas, de orden.
- ☐ c. Preventivas, de orden, Informativas

3. Indique la jerarquía de priorización de actores Viales

- ☐ a. Peatones, ciclistas, motos, transporte de carga, autos y transporte público.
- ☐ b. Autos, motos, Peatones, ciclistas, transporte público y transporte de carga.
- ☒ c. Peatones, ciclistas, transporte público, transporte de carga, autos y motos.

4. Se define como el suceso ocasionando o en el que haya intervenido un vehículo automotor en una vía pública o privada con acceso al público.



- ☐ a. Accidente laboral.
- ☐ b. Deceso vial.
- ☒ c. Accidente de tránsito.

5. ¿Por qué el signo PARE tiene ocho lados?

- ☐ a) Porque evita más accidentes que las de forma rectangular.
- ☐ b) Sus ocho lados son los 8 segundos que debemos esperar para pasar.
- ☒ c) a y b son correctas.

Observaciones y sugerencias

--

 	EVALUACIÓN DE CONOCIMIENTOS		CÓDIGO. FO-SST-T-T23
			VERSIÓN. 1
			Pág. 1 de 2

TEMA CAPACITACIÓN	SEGURIDAD VIAL	Fecha	01-11-2023
		Hora Inicio	9:00am
Nombres	LAURA SOLANO TOVAR.	Número de identificación	1030669808
Proyecto	MEN	Resultado	5

Etiqueta

R

Con sinceridad y de manera independiente responda las siguientes preguntas. Gracias por su colaboración.

PREGUNTAS

1. Cual es la norma que regula el Código Nacional de Tránsito.

- ☒ a. Ley 769 de 2002
- b. Ley 756 de 2010
- c. Ley 710 de 2015

2. Indique el tipo de señales que contiene el Código Nacional de Tránsito.

- ☒ a. Preventivas, Informativas, Restrictivas.
- b. Informativas, Restrictivas, de orden.
- c. Preventivas, de orden, Informativas

3. Indique la jerarquía de priorización de actores Viales

- a. Peatones, ciclistas, motos, transporte de carga, autos y transporte público.
- b. Autos, motos, Peatones, ciclistas, transporte público y transporte de carga.
- ☒ c. Peatones, ciclistas, transporte público, transporte de carga, autos y motos.

4. Se define como el suceso ocasionando o en el que haya intervenido un vehículo automotor en una vía pública o privada con acceso al público.

- a. Accidente laboral.
- b. Deceso vial.
- ☒ c. Accidente de tránsito.

5. ¿Por qué el signo PARE tiene ocho lados?

- a) Porque evita más accidentes que las de forma rectangular.
- b) Sus ocho lados son los 8 segundos que debemos esperar para pasar.
- ☒ c) a y b son correctas.

Observaciones y sugerencias

--

 CONSORCIO PYSKAP 2022		EVALUACIÓN DE CONOCIMIENTOS		CÓDIGO. FO-SST-T-T23
				VERSIÓN. 1
				Pág. 1 de 2

TEMA CAPACITACIÓN	SEGURIDAD VIAL	Fecha	01-11-2023
		Hora Inicio	9:00am
Nombres	Juan Camilo Chavez. M.	Número de identificación	1022424618.
Proyecto	MEN.	Resultado	5

Etiqueta

R

Con sinceridad y de manera independiente responda las siguientes preguntas. Gracias por su colaboración.

PREGUNTAS

1. Cual es la norma que regula el Código Nacional de Tránsito.

- ☒ a. Ley 769 de 2002
- b. Ley 756 de 2010
- c. Ley 710 de 2015

2. indique el tipo de señales que contiene el Código Nacional de Tránsito.

- ☒ a. Preventivas, Informativas, Restrictivas.
- b. Informativas, Restrictivas, de orden.
- c. Preventivas, de orden, Informativas

3. Indique la jerarquía de priorización de actores Viales

- a. Peatones, ciclistas, motos, transporte de carga, autos y transporte público.
- b. Autos, motos, Peatones, ciclistas, transporte público y transporte de carga.
- ☒ c. Peatones, ciclistas, transporte público, transporte de carga, autos y motos.

4. Se define como el suceso ocasionando o en el que haya intervenido un vehículo automotor en una vía pública o privada con acceso al público.

- a. Accidente laboral.
- b. Deceso vial.
- ☒ c. Accidente de tránsito.

5. ¿Por qué el signo PARE tiene ocho lados?

- a) Porque evita más accidentes que las de forma rectangular.
- b) Sus ocho lados son los 8 segundos que debemos esperar para pasar.
- ☒ c) a y b son correctas.

Observaciones y sugerencias

--

 	EVALUACIÓN DE CONOCIMIENTOS		CÓDIGO. FO-SST-T-T23
			VERSIÓN. 1
			Pág. 1 de 2

TEMA CAPACITACIÓN	SEGURIDAD VIAL	Fecha	01-11-2023
		Hora Inicio 9:00am	Hora Fin 10:00am
Nombres	Camilo Pinzon	Número de identificación	1007101714
Proyecto	MEN	Resultado	5

Etiqueta

R

Con sinceridad y de manera independiente responda las siguientes preguntas. Gracias por su colaboración.

PREGUNTAS

1. Cual es la norma que regula el Código Nacional de Tránsito.

- ☒ a. Ley 769 de 2002
- b. Ley 756 de 2010
- c. Ley 710 de 2015

2. indique el tipo de señales que contiene el Código Nacional de Tránsito.

- ☒ a. Preventivas, Informativas, Restrictivas.
- b. Informativas, Restrictivas, de orden.
- c. Preventivas, de orden, Informativas

3. Indique la jerarquía de priorización de actores Viales

- a. Peatones, ciclistas, motos, transporte de carga, autos y transporte público.
- b. Autos, motos, Peatones, ciclistas, transporte público y transporte de carga.
- ☒ c. Peatones, ciclistas, transporte público, transporte de carga, autos y motos.

4. Se define como el suceso ocasionando o en el que haya intervenido un vehículo automotor en una vía pública o privada con acceso al público.



- a. Accidente laboral.
- b. Deceso vial.
- ☒ c. Accidente de tránsito.

5. ¿Por qué el signo PARE tiene ocho lados?

- a) Porque evita más accidentes que las de forma rectangular.
- b) Sus ocho lados son los 8 segundos que debemos esperar para pasar.
- ☒ c) a y b son correctas.

Observaciones y sugerencias

--

 		EVALUACIÓN DE CONOCIMIENTOS		CÓDIGO. FO-SST-T-T23 VERSIÓN. 1 Pág. 1 de 2
TEMA CAPACITACIÓN	SEGURIDAD VIAL	Fecha 01-11-2023	01-11-2023	
Nombres	Yumi Tatiana Rivero Larios	Hora Inicio	9:00 am	Hora Fin 10:00 am
Proyecto	PIEN	Número de identificación	53 011 054	
		Resultado	4.5	

Etiqueta

R

Con sinceridad y de manera independiente responda las siguientes preguntas. Gracias por su colaboración.

PREGUNTAS

1. Cual es la norma que regula el Código Nacional de Tránsito.

- ☒ a. Ley 769 de 2002
- b. Ley 756 de 2010
- c. Ley 710 de 2015

2. indique el tipo de señales que contiene el Código Nacional de Tránsito.

- ☒ a. Preventivas, Informativas, Restrictivas.
- b. Informativas, Restrictivas, de orden.
- c. Preventivas, de orden, Informativas

3. Indique la jerarquía de priorización de actores Viales

- ☒ a. Peatones, ciclistas, motos, transporte de carga, autos y transporte público.
- b. Autos, motos, Peatones, ciclistas, transporte público y transporte de carga.
- ☒ c. Peatones, ciclistas, transporte público, transporte de carga, autos y motos.

4. Se define como el suceso ocasionando o en el que haya intervenido un vehículo automotor en una vía pública o privada con acceso al público.

- a. Accidente laboral.
- b. Deceso vial.
- ☒ c. Accidente de tránsito.

5. ¿Por qué el signo PARE tiene ocho lados?

- a) Porque evita más accidentes que las de forma rectangular.
- ☒ b) Sus ocho lados son los 8 segundos que debemos esperar para pasar.
- c) a y b son correctas.

0,5

Observaciones y sugerencias

--

  	EVALUACIÓN DE CONOCIMIENTOS		CÓDIGO. FO-SST-T-T23
			VERSIÓN. 1
			Pág. 1 de 2

TEMA CAPACITACIÓN	SEGURIDAD VIAL	Fecha	01-11-2023
		Hora Inicio	9:00am
Nombres	Mayerli Diviana Salazar	Número de identificación	1023911805
Proyecto	PYSKAP - MEN	Resultado	5

Etiqueta

R

Con sinceridad y de manera independiente responda las siguientes preguntas. Gracias por su colaboración.

PREGUNTAS

1. Cual es la norma que regula el Código Nacional de Tránsito.

- ☒ a. Ley 769 de 2002
- b. Ley 756 de 2010
- c. Ley 710 de 2015

2. indique el tipo de señales que contiene el Código Nacional de Tránsito.

- ☒ a. Preventivas, Informativas, Restrictivas.
- b. Informativas, Restrictivas, de orden.
- c. Preventivas, de orden, Informativas

3. Indique la jerarquía de priorización de actores Viales

- a. Peatones, ciclistas, motos, transporte de carga, autos y transporte público.
- b. Autos, motos, Peatones, ciclistas, transporte público y transporte de carga.
- ☒ c. Peatones, ciclistas, transporte público, transporte de carga, autos y motos.


4. Se define como el suceso ocasionando o en el que haya intervenido un vehículo automotor en una vía pública o privada con acceso al público.

- a. Accidente laboral.
- b. Deceso vial.
- ☒ c. Accidente de tránsito.

5. ¿Por qué el signo PARE tiene ocho lados?

- a) Porque evita más accidentes que las de forma rectangular.
- b) Sus ocho lados son los 8 segundos que debemos esperar para pasar.
- ☒ c) a y b son correctas.

Observaciones y sugerencias

 	EVALUACIÓN DE CONOCIMIENTOS	CÓDIGO. FO-SST-T-T23
		VERSIÓN. 1
		Pág. 1 de 2

TEMA CAPACITACIÓN	SEGURIDAD VIAL	Fecha	01-11-2023
		Hora Inicio 9:00am	Hora Fin 10:00am
Nombres	DIANA PAOLA POZAS GUIMA	Número de identificación	1000807892.
Proyecto	CONSORCIO PYSKAP	Resultado	5

Etiqueta

R

Con sinceridad y de manera independiente responda las siguientes preguntas. Gracias por su colaboración.

PREGUNTAS

1. Cual es la norma que regula el Código Nacional de Tránsito.

- ☒ a. Ley 769 de 2002
- b. Ley 756 de 2010
- c. Ley 710 de 2015

2. indique el tipo de señales que contiene el Código Nacional de Tránsito.

- ☒ a. Preventivas, Informativas, Restrictivas.
- b. Informativas, Restrictivas, de orden.
- c. Preventivas, de orden, Informativas

3. Indique la jerarquía de priorización de actores Viales

- a. Peatones, ciclistas, motos, transporte de carga, autos y transporte público.
- b. Autos, motos, Peatones, ciclistas, transporte público y transporte de carga.
- ☒ c. Peatones, ciclistas, transporte público, transporte de carga, autos y motos.

4. Se define como el suceso ocasionando o en el que haya intervenido un vehículo automotor en una vía pública o privada con acceso al público.

- a. Accidente laboral.
- b. Deceso vial.
- ☒ c. Accidente de tránsito.

5. ¿Por qué el signo PARE tiene ocho lados?

- a) Porque evita más accidentes que las de forma rectangular.
- ☒ b) Sus ocho lados son los 8 segundos que debemos esperar para pasar.
- c) a y b son correctas.

Observaciones y sugerencias

 CONSORCIO PYSKAP 2022 	EVALUACIÓN DE CONOCIMIENTOS		CÓDIGO. FO-SST-T-T23
			VERSIÓN. 1
			Pág. 1 de 2

TEMA CAPACITACIÓN	SEGURIDAD VIAL	Fecha	01-11-2023	
		Hora Inicio 9:00 am	Hora Fin 10:00 am	
Nombres	Nubia Rosio patino	Número de identificación	52347625	
Proyecto	YEN	Resultado	4.5	

Etiqueta

R

Con sinceridad y de manera independiente responda las siguientes preguntas. Gracias por su colaboración.

PREGUNTAS

1. Cual es la norma que regula el Código Nacional de Tránsito.

- ☒ a. Ley 769 de 2002
- b. Ley 756 de 2010
- c. Ley 710 de 2015

2. indique el tipo de señales que contiene el Código Nacional de Tránsito.

- ☒ a. Preventivas, Informativas, Restrictivas.
- b. Informativas, Restrictivas, de orden.
- c. Preventivas, de orden, Informativas

3. Indique la jerarquía de priorización de actores Viales

- a. Peatones, ciclistas, motos, transporte de carga, autos y transporte público.
- b. Autos, motos, Peatones, ciclistas, transporte público y transporte de carga.
- ☒ c. Peatones, ciclistas, transporte público, transporte de carga, autos y motos.

4. Se define como el suceso ocasionando o en el que haya intervenido un vehículo automotor en una vía pública o privada con acceso al público.

- a. Accidente laboral.
- b. Deceso vial.
- ☒ c. Accidente de tránsito.



5. ¿Por qué el signo PARE tiene ocho lados?

- a) Porque evita más accidentes que las de forma rectangular.
- ☒ b) Sus ocho lados son los 8 segundos que debemos esperar para pasar.
- c) a y b son correctas.



Observaciones y sugerencias

--

 	EVALUACIÓN DE CONOCIMIENTOS	CÓDIGO. FO-SST-T-T23
		VERSIÓN. 1
		Pág. 1 de 2

TEMA CAPACITACIÓN	SEGURIDAD VIAL	Fecha	01-11-2023
		Hora Inicio 9:00am	Hora Fin 10:00am
Nombres	Richard Soler Marín	Número de identificación	1007723119
Proyecto	MEN Grupo Transparencia	Resultado	5

Etiqueta

R

Con sinceridad y de manera independiente responda las siguientes preguntas. Gracias por su colaboración.

PREGUNTAS

1. Cual es la norma que regula el Código Nacional de Tránsito.

- ☒ a. Ley 769 de 2002 / Ley 383 2010
- b. Ley 756 de 2010
- c. Ley 710 de 2015

2. Indique el tipo de señales que contiene el Código Nacional de Tránsito.

- ☒ a. Preventivas, Informativas, Restrictivas
- b. Informativas, Restrictivas, de orden.
- c. Preventivas, de orden, Informativas

3. Indique la jerarquía de priorización de actores Viales

- a. Peatones, ciclistas, motos, transporte de carga, autos y transporte público.
- b. Autos, motos, Peatones, ciclistas, transporte público y transporte de carga.
- ☒ c. Peatones, ciclistas, transporte público, transporte de carga, autos y motos.



4. Se define como el suceso ocasionando o en el que haya intervenido un vehículo automotor en una vía pública o privada con acceso al público.

- a. Accidente laboral.
- b. Deceso vial.
- ☒ c. Accidente de tránsito.

5. ¿Por qué el signo PARE tiene ocho lados?

- a) Porque evita más accidentes que las de forma rectangular.
- b) Sus ocho lados son los 8 segundos que debemos esperar para pasar.
- ☒ c. a y b son correctas.

Observaciones y sugerencias

 CONSORCIO PYSKAP 2022		EVALUACIÓN DE CONOCIMIENTOS		CÓDIGO. FO-SST-T-T23
				VERSIÓN. 1
				Pág. 1 de 2

TEMA CAPACITACIÓN	SEGURIDAD VIAL	Fecha	01-11-2023
		Hora Inicio 9:00am	Hora Fin 10:00am
Nombres	Angie Rodriguez	Número de identificación	1073176240
Proyecto	MEN	Resultado	45

Etiqueta

R

Con sinceridad y de manera independiente responda las siguientes preguntas. Gracias por su colaboración.

PREGUNTAS

1. Cual es la norma que regula el Código Nacional de Tránsito.

- ☒ a. Ley 769 de 2002
- b. Ley 756 de 2010
- c. Ley 710 de 2015

2. indique el tipo de señales que contiene el Código Nacional de Tránsito.

- ☒ a. Preventivas, Informativas, Restrictivas.
- b. Informativas, Restrictivas, de orden.
- c. Preventivas, de orden, Informativas

3. Indique la jerarquía de priorización de actores Viales

- ☒ a. Peatones, ciclistas, motos, transporte de carga, autos y transporte público.
- b. Autos, motos, Peatones, ciclistas, transporte público y transporte de carga.
- c. Peatones, ciclistas, transporte público, transporte de carga, autos y motos.

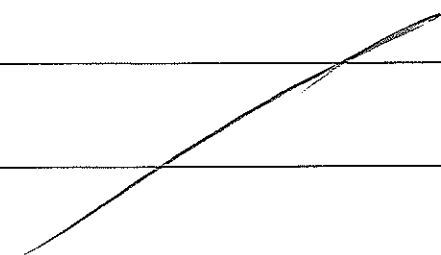
4. Se define como el suceso ocasionando o en el que haya intervenido un vehículo automotor en una vía pública o privada con acceso al público.



- a. Accidente laboral.
- b. Deceso vial.
- ☒ c. Accidente de tránsito.

5. ¿Por qué el signo PARE tiene ocho lados?

- a) Porque evita más accidentes que las de forma rectangular.
- ☒ b) Sus ocho lados son los 8 segundos que debemos esperar para pasar.
- ☒ c) a y b son correctas.

Observaciones y sugerencias


--

 CONSORCIO PYSKAP 2023		EVALUACIÓN DE CONOCIMIENTOS		CÓDIGO. FO-SST-T-T23
				VERSIÓN. 1
				Pág. 1 de 2

TEMA CAPACITACIÓN	SEGURIDAD VIAL	Fecha	01-11-2023
		Hora Inicio	9:00am
Nombres	JONATHAN ORTIZ C.	Número de identificación	1022386620
Proyecto	MINISTERIO DE EDUCACIÓN	Resultado	4

Etiqueta

R

Con sinceridad y de manera independiente responda las siguientes preguntas. Gracias por su colaboración.

PREGUNTAS

1. Cual es la norma que regula el Código Nacional de Tránsito.

- ☒ a. Ley 769 de 2002
- b. Ley 756 de 2010
- c. Ley 710 de 2015

2. indique el tipo de señales que contiene el Código Nacional de Tránsito.

- ☒ a. Preventivas, Informativas, Restrictivas.
- b. Informativas, Restrictivas, de orden.
- c. Preventivas, de orden, Informativas

3. Indique la jerarquía de priorización de actores Viales

- ☒ a. Peatones, ciclistas, motos, transporte de carga, autos y transporte público.
- b. Autos, motos, Peatones, ciclistas, transporte público y transporte de carga.
- c. Peatones, ciclistas, transporte público, transporte de carga, autos y motos.

4. Se define como el suceso ocasionando o en el que haya intervenido un vehículo automotor en una vía pública o privada con acceso al público.



- a. Accidente laboral.
- b. Deceso vial.
- ☒ c. Accidente de tránsito.

5. ¿Por qué el signo PARE tiene ocho lados?

- a) Porque evita más accidentes que las de forma rectangular.
- ☒ b) Sus ocho lados son los 8 segundos que debemos esperar para pasar.
- c) a y b son correctas.

Observaciones y sugerencias

- A la hora de salir del trabajo siempre hay muchas riesgos viales como cruce de btd, motos, autos y peatones.

 CONSORCIO PYSKAP 2022		EVALUACIÓN DE CONOCIMIENTOS		CÓDIGO. FO-SST-T-T23
				VERSIÓN. 1
				Pág. 1 de 2

TEMA CAPACITACIÓN	SEGURIDAD VIAL	Fecha	01-11-2023
		Hora Inicio	09:00am
Nombres	Jennifer Parra	Número de identificación	100086884
Proyecto	TREN	Resultado	3,5

Etiqueta

R

Con sinceridad y de manera independiente responda las siguientes preguntas. Gracias por su colaboración.

PREGUNTAS

1. Cual es la norma que regula el Código Nacional de Tránsito.

- ☒ a. Ley 769 de 2002
- b. Ley 756 de 2010
- c. Ley 710 de 2015

2. Indique el tipo de señales que contiene el Código Nacional de Tránsito.

- ☒ a. Preventivas, Informativas, Restrictivas.
- b. Informativas, Restrictivas, de orden.
- c. Preventivas, de orden, Informativas

3. Indique la jerarquía de priorización de actores Viales

- ☒ a. Peatones, ciclistas, motos, transporte de carga, autos y transporte público.
- b. Autos, motos, Peatones, ciclistas, transporte público y transporte de carga.
- c. Peatones, ciclistas, transporte público, transporte de carga, autos y motos.

4. Se define como el suceso ocasionando o en el que haya intervenido un vehículo automotor en una vía pública o privada con acceso al público.


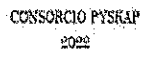

- a. Accidente laboral.
- b. Deceso vial.
- ☒ c. Accidente de tránsito.

5. ¿Por qué el signo PARE tiene ocho lados?

- a) Porque evita más accidentes que las de forma rectangular.
- ☒ b) Sus ocho lados son los 8 segundos que debemos esperar para pasar.
- c) a y b son correctas.

Observaciones y sugerencias

--

  	EVALUACIÓN DE CONOCIMIENTOS		CÓDIGO. FO-SST-T-T23
			VERSIÓN. 1
			Pág. 1 de 2

TEMA CAPACITACIÓN	SEGURIDAD VIAL	Fecha	01-11-2023
		Hora Inicio: 9:00 am	Hora Fin: 10:00 am
Nombres	Sindy Tatiana Guzmán		Número de identificación
Proyecto			1006003235
		Resultado	4,5

Etiqueta

R

Con sinceridad y de manera independiente responda las siguientes preguntas. Gracias por su colaboración.

PREGUNTAS

1. Cual es la norma que regula el Código Nacional de Tránsito.

- ☒ a. Ley 769 de 2002
- b. Ley 756 de 2010
- c. Ley 710 de 2015

2. indique el tipo de señales que contiene el Código Nacional de Tránsito.

- ☒ a. Preventivas, Informativas, Restrictivas.
- b. Informativas, Restrictivas, de orden.
- c. Preventivas, de orden, Informativas

3. Indique la jerarquía de priorización de actores Viales

- a. Peatones, ciclistas, motos, transporte de carga, autos y transporte público.
- b. Autos, motos, Peatones, ciclistas, transporte público y transporte de carga.
- ☒ c. Peatones, ciclistas, transporte público, transporte de carga, autos y motos.



4. Se define como el suceso ocasionando o en el que haya intervenido un vehículo automotor en una vía pública o privada con acceso al público.

- a. Accidente laboral.
- b. Deceso vial.
- ☒ c. Accidente de tránsito.

5. ¿Por qué el signo PARE tiene ocho lados?

- a) Porque evita más accidentes que las de forma rectangular.
- ☒ b) Sus ocho lados son los 8 segundos que debemos esperar para pasar.
- c) a y b son correctas.

Observaciones y sugerencias

 CONSORCIO PYSRAP 	EVALUACIÓN DE CONOCIMIENTOS		CÓDIGO. FO-SST-T-T23
			VERSIÓN. 1
			Pág. 1 de 2

TEMA CAPACITACIÓN	SEGURIDAD VIAL	Fecha	01-11-2023
		Hora Inicio 9:00am	Hora Fin 10:00am
Nombres	Andrea Ruiz Castañeda	Número de identificación	7012437367
Proyecto	MEN	Resultado	5

Etiqueta

R

Con sinceridad y de manera independiente responda las siguientes preguntas. Gracias por su colaboración.

PREGUNTAS

1. Cual es la norma que regula el Código Nacional de Tránsito.

- ☒ a. Ley 769 de 2002
- b. Ley 756 de 2010
- c. Ley 710 de 2015

2. indique el tipo de señales que contiene el Código Nacional de Tránsito.

- ☒ a. Preventivas, Informativas, Restrictivas.
- b. Informativas, Restrictivas, de orden.
- c. Preventivas, de orden, Informativas

3. Indique la jerarquía de priorización de actores Viales

- a. Peatones, ciclistas, motos, transporte de carga, autos y transporte público.
- b. Autos, motos, Peatones, ciclistas, transporte público y transporte de carga.
- ☒ c. Peatones, ciclistas, transporte público, transporte de carga, autos y motos.

4. Se define como el suceso ocasionando o en el que haya intervenido un vehículo automotor en una vía pública o privada con acceso al público.

- a. Accidente laboral.
- b. Deceso vial.
- ☒ c. Accidente de tránsito.

5. ¿Por qué el signo PARE tiene ocho lados?

- a) Porque evita más accidentes que las de forma rectangular.
- b) Sus ocho lados son los 8 segundos que debemos esperar para pasar.
- ☒ c) a y b son correctas.

Observaciones y sugerencias

 	EVALUACIÓN DE CONOCIMIENTOS	CÓDIGO. FO-SST-T-T23
		VERSIÓN. 1
		Pág. 1 de 2

TEMA CAPACITACIÓN	SEGURIDAD VIAL	Fecha	01-11-2023
		Hora Inicio	Hora Fin
Nombres	Yuli Rocio Ibarra Reyes	Número de identificación	1012352452
Proyecto	MEN.	Resultado	S

Etiqueta



Con sinceridad y de manera independiente responda las siguientes preguntas. Gracias por su colaboración.

PREGUNTAS

1. Cual es la norma que regula el Código Nacional de Tránsito.

- ☒ a. Ley 769 de 2002
- b. Ley 756 de 2010
- c. Ley 710 de 2015

2. indique el tipo de señales que contiene el Código Nacional de Tránsito.

- a. Preventivas, Informativas, Restrictivas.
- b. Informativas, Restrictivas, de orden.
- ☒ c. Preventivas, de orden, Informativas

3. Indique la jerarquía de priorización de actores Viales

- a. Peatones, ciclistas, motos, transporte de carga, autos y transporte público.
- b. Autos, motos, Peatones, ciclistas, transporte público y transporte de carga.
- ☒ c. Peatones, ciclistas, transporte público, transporte de carga, autos y motos.

4. Se define como el suceso ocasionando o en el que haya intervenido un vehículo automotor en una vía pública o privada con acceso al público.

- a. Accidente laboral.
- b. Deceso vial.
- ☒ c. Accidente de tránsito.

5. ¿Por qué el signo PARE tiene ocho lados?

- a) Porque evita más accidentes que las de forma rectangular.
- b) Sus ocho lados son los 8 segundos que debemos esperar para pasar.
- ☒ c) a y b son correctas.

Observaciones y sugerencias